

**Городская математическая игра для дошкольников
«Кенгуренок 2015»**





Конкурс капитанов



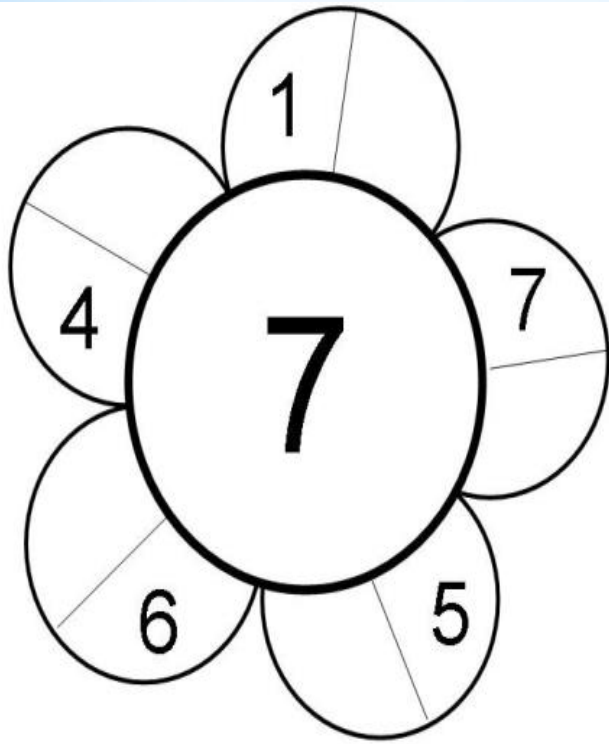




КРИТЕРИИ:

- ЧЕТКОСТЬ, ВЫРАЗИТЕЛЬНОСТЬ;

- СОГЛАСОВАННОСТЬ.



Подберите самолетам нужный трап и соедини их линиями







$$\text{tiger} + \text{tiger} = 2$$

$$10 - \text{panther} = 4$$

$$\text{panther} + \text{lion} = 9$$

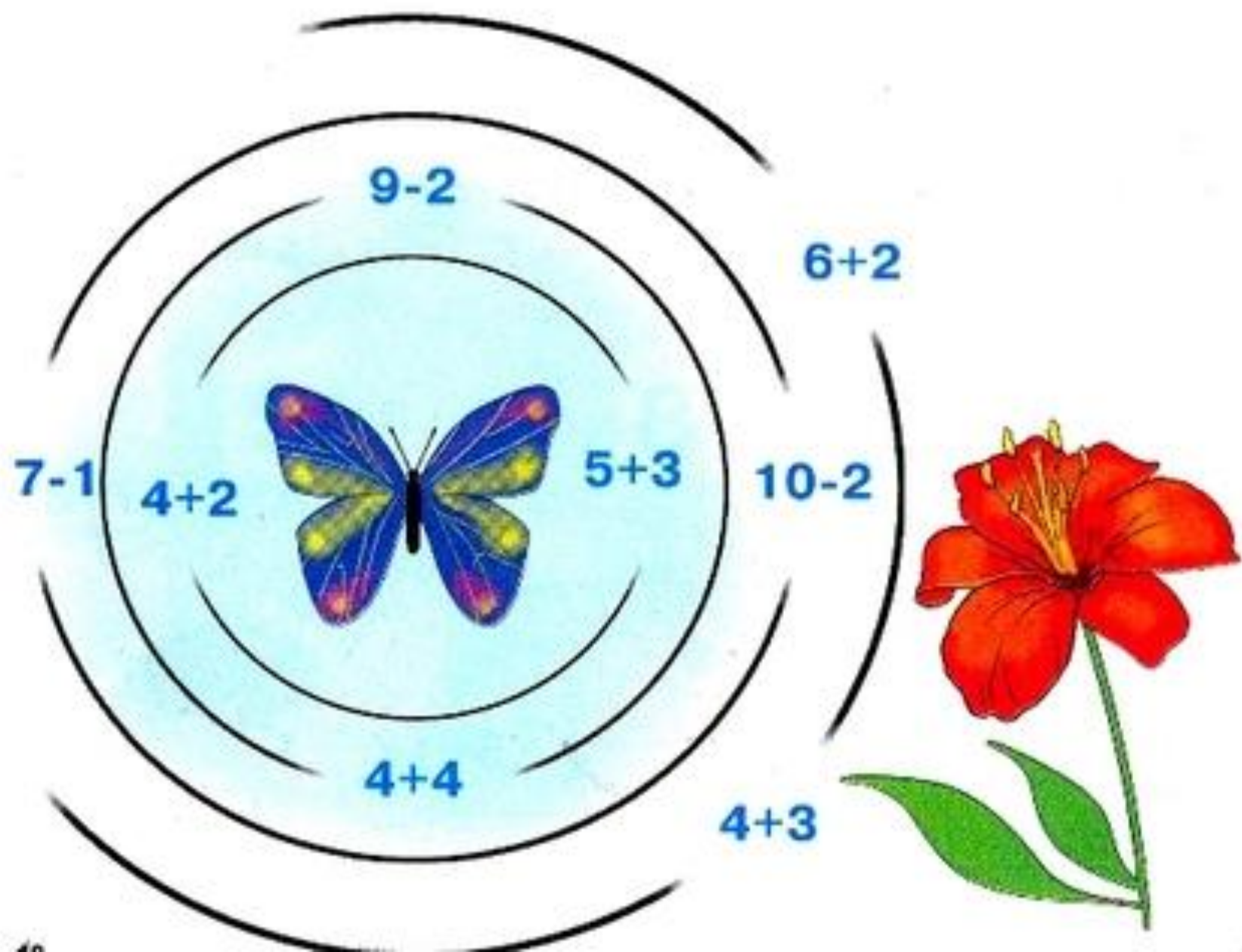
$$\text{panther} - \text{tiger} = \text{zebra}$$

$$8 \bigcirc 4 \bigcirc 3 = 7$$

$$\bigcirc + \bigcirc + \bigcirc =$$

Помоги бабочке долететь до цветочка. Ей можно пролетать только в те отверстия, сумма чисел которых равна 8.









$$10 - \bigcirc < 8$$



Сколько половинок овощей лежит на каждой тарелке?
Сколько было целых овощей?





Определи, сколько минут показывает каждая минутная стрелка.
Соедини линиями часы с подходящей карточкой.



5
минут

10
минут

15
минут

20
минут

25
минут

30
минут

45
минут

50
минут






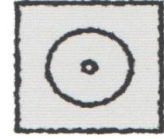
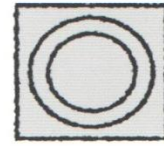
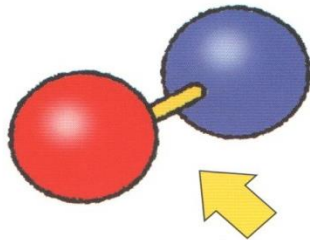

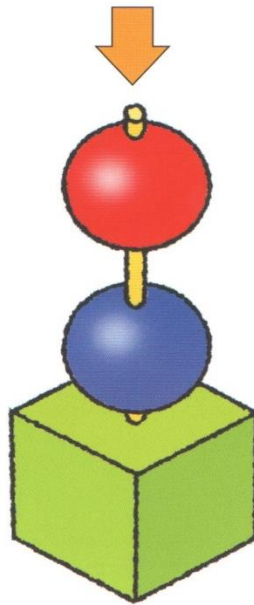
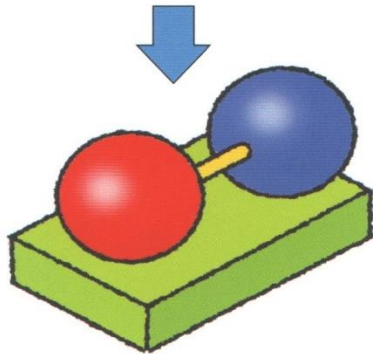


5	Р	Л	И	С	В
4	Е	Д	Ю	У	М
3	К	А	Г	Ь	Ж
2	З	О	Б	Ф	Ы
1	Ш	Т	Я	Н	П
	1	2	3	4	5



Расшифруй слова, пользуясь таблицей. Сначала определи номер подъезда, затем – этажа.


(3, 2)	(4, 4)	(1, 3)	(5, 5)	(2, 3)	(3, 1)	(3, 2)	(2, 5)	(2, 2)	(4, 1)	(3, 1)

(1, 3)	(2, 2)	(5, 4)	(5, 1)	(4, 3)	(3, 4)	(2, 1)	(1, 4)	(1, 5)



Пространственное мышление

● На какой из трёх картинок предметы изображены правильно?



И100РИЯ

Р1А

40А

СМОР1А

ВИ3НА

ЛА100ЧКА

3КОТАЖ

ПО2Л

7Я

3КО

«КОНКУРС КАПИТАНОВ»

-2 ВОПРОСА











-СОСТАВЛЕНИЕ ЗАДАЧИ

**«СОСТАВЛЕНИЕ КАРТИНЫ ИЗ
ГЕОМЕТРИЧЕСКИХ ФИГУР»**



БЛАНК ЖЮРИ

Дата проведения: 18.05.2012 г. Время проведения: 9.00 ч.

Цвет команды	Приветствие			Почтовый ящик	Ключ	Ребус «Зоопарк»	Паруса	Бабочки	Звериные прятки	Жираф	Домики	Обед для зверей	Капитаны	Домашнее задание «Математическое животное»			Итого	Место	
	3 балла													8 баллов	3 балла	8 баллов			9 баллов
	четкость	громкость	артистизм												время представления	разнообразные используемые фигур., цифр	оригинальность, творчество		
																			
																			
																			
																			
																			
																			
																			
																			
																			
																			

Правильные ответы: **Почтовый ящик** – 7 2. **Ключ** – см. образец 3. **Ребус** – З О О П А Р К 4. **Паруса** – см. образец 5. **Бабочки** – см. образец 6. **Звериные прятки** - 5 и 5

7. **Жираф** - см. образец 8. **Домики** - см. образец 9. **Обед для зверей** - см. образец

За каждый правильно решенный пример 1 балл

